

Historia 1 : El mundo mediterráneo, huellas de la Antigüedad y de la Edad Media



¿ Que parte del mundo esta representada aquí y por qué esta dibujada así ?

Fuente : Mapa de la Ecúmene de la Geographia de Ptolomeo (siglo II), *Mapa świata* en 1467, [Wikimedia](#), consultado el 12/06/19

Cuestión general :

¿ Por que podemos decir que la península ibérica fue un lugar de contactos entre varias civilizaciones durante la Antigüedad ?

Plan de la lección :

I. El espacio mediterráneo en la Antigüedad

1. Los Griegos en España

a. Un pueblo de navegantes

b. Ampurias- Emporion, una colonia griega

2. El Imperio romano

a. Hispania y su conquista

b. El emperador Trajano (53-117 d. C.)

I. El espacio mediterráneo en la Antigüedad

1. Los Griegos en España

a. Un pueblo de navegantes

Explica donde se sitúa Grecia.
¿ Que medios fueron utilizados durante la colonización griega ?



A Présenter le document

Le point méthode

Pour construire l'introduction, on peut se poser une série de questions permettant, ensuite, l'analyse du ou des documents :

- **Qui ?** C'est-à-dire quel est l'auteur du document mais aussi quel est le destinataire de l'œuvre étudiée.
- **Qu'est-ce ?** Quelle est la nature du document et quelle a été la manière dont il a été conçu ?
- **Quand ?** Quel est le contexte global puis le contexte plus précis de la réalisation du document ?
- **D'où provient-il ?** De quelle source émane ce document, où est-il conservé ?
- **Quel est le sujet ?** C'est-à-dire expliquer rapidement de quoi traite ce document.

Attention

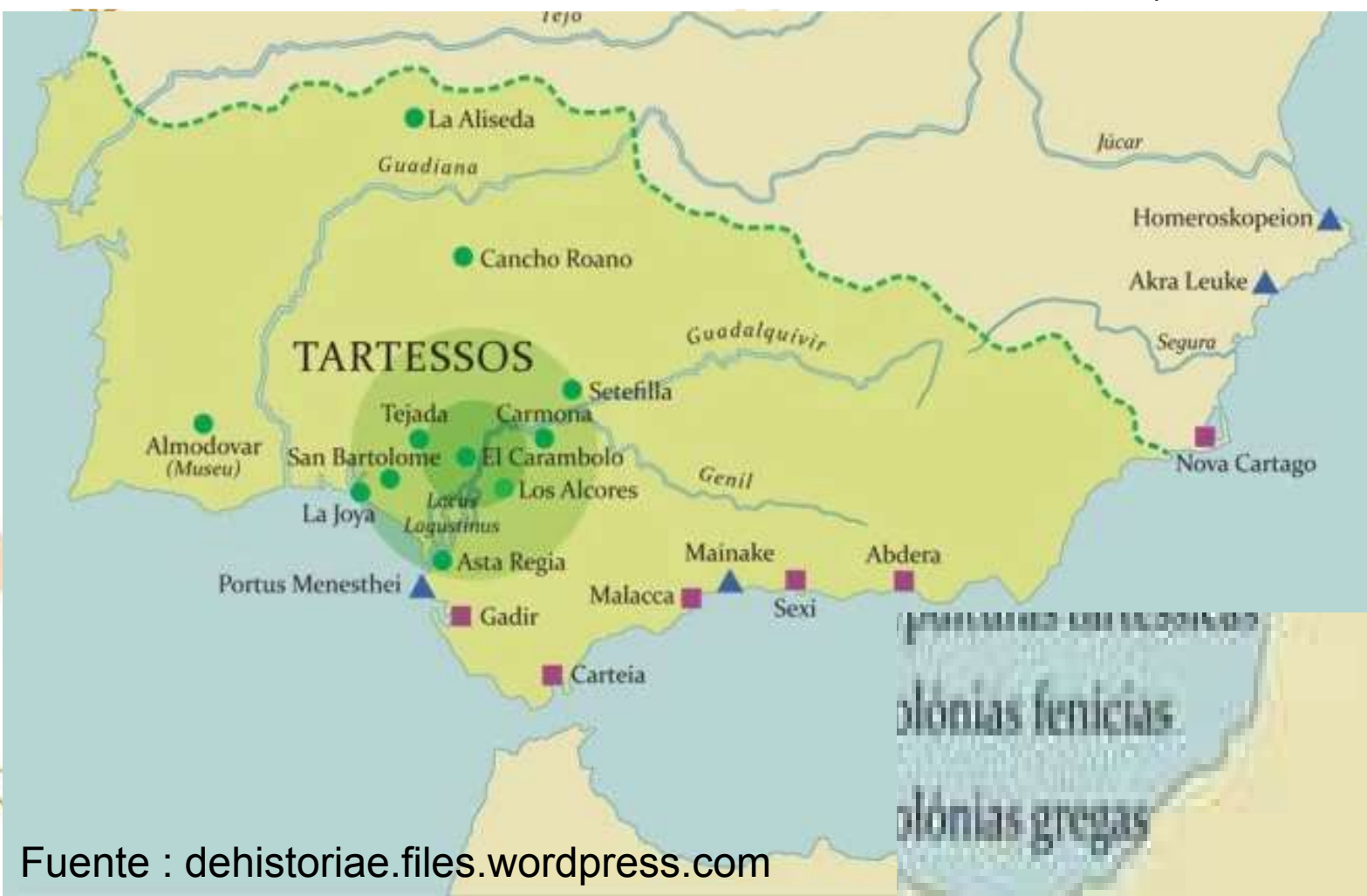
L'analyse de tous les éléments n'est pas toujours utile pour ensuite comprendre le document. Il faut faire ressortir ce qui est le plus cohérent avec le sujet énoncé ou demandé dans la consigne.

Dans le cas d'une **étude de deux documents**, on essaiera de montrer les **points communs** de ceux-ci dans la présentation.

«Estos focesos fueron los primeros griegos que hicieron largas travesías por mar, y fueron ellos los que descubrieron el Adriático, Tirrenia, Iberia y Tartessos. Y navegaban, no en naves de carga, sino en naves de guerra de cincuenta remos. Una vez llegados a Tartessos se ganaron la amistad del rey de los tartesios, cuyo nombre era Argantonio, que ejerció el poder durante ochenta años, y vivió en total ciento cincuenta»

Heródoto (485 – 426 a. C.), *Historia*, 445 a. C.

**Presenta el texto.
Explica como los focesos llegaron en la península ibérica y que encontraron.**



plonias fenicias
plonias gregas



I. 1. Los Griegos en España

b. Ampurias- Emporion, una colonia griega

¿ Por que los Griegos eligieron el sitio de Emporion para construir una nueva colonia ?

LA PENÍNSULA IBÉRICA
HASTA LA LLEGADA DE
LOS ROMANOS

- Celtas
- Iberos
- Celtiberos
- Colonias fenicias
- Colonias griegas



Fuente Mapa : sitio web
historiasiglo20, consultado el
13/06/2019

“ Es esta <Emporion> una fundación de los massaliotas¹, que dista unos cuarenta estadios del Pirineos y de la frontera de Iberia con Céltica. También este es un territorio globalmente fértil y de buenos puertos. (...) En Emporion se venera a la diosa Artemis de Efeso.”

Estrabón, *geografía* III 4, 1, trad. ROSA-ARACELI Santiago, sitio web : emerita.revistas.csic.es, consultado el 13/06/2019

¹Habitantes de Massalia (Marseille)

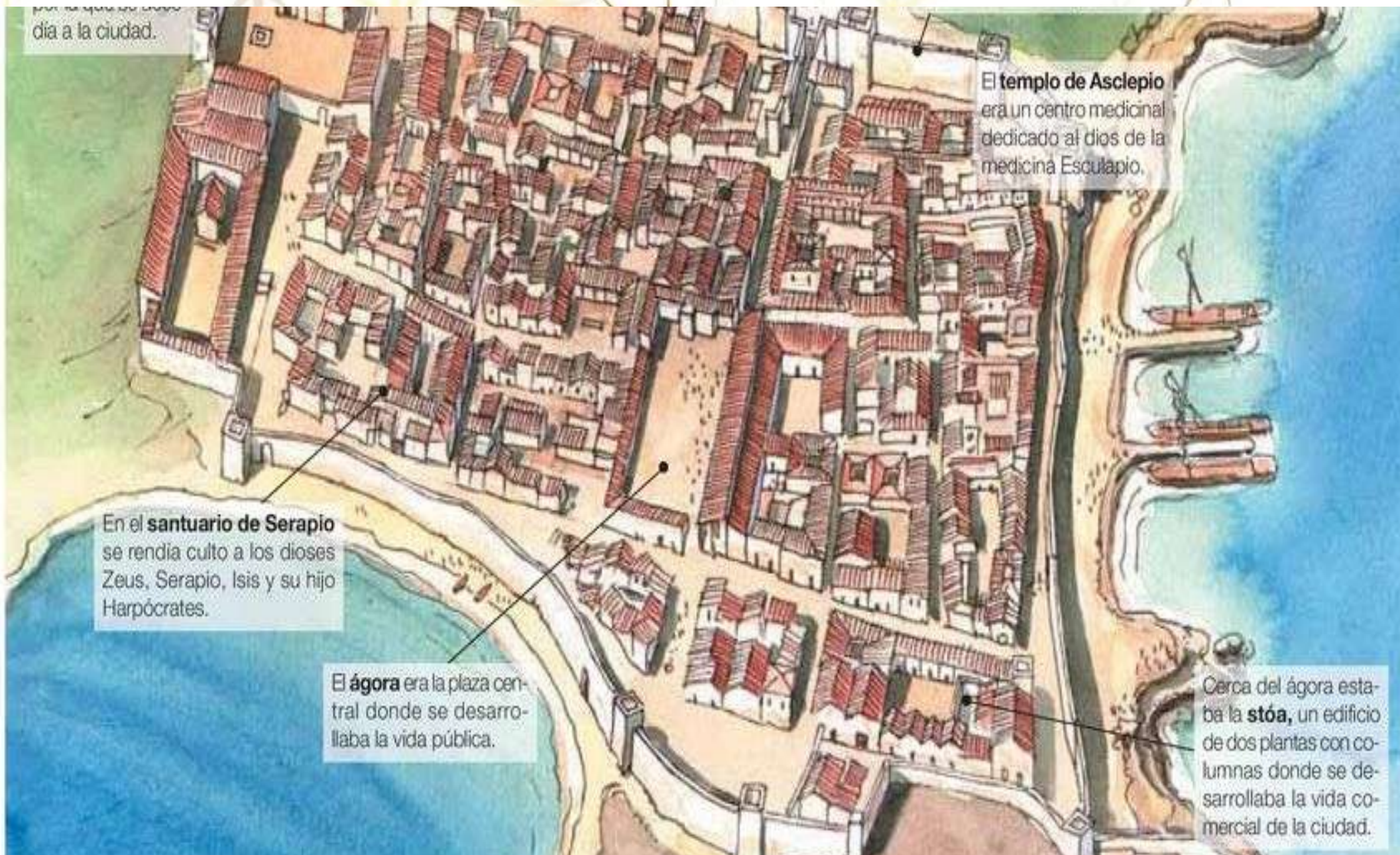
Presenta el documento y explica cuales son las raíces de la ciudad de Emporion.

El templo de Artemis de Efeso fue la cuarta maravilla del mundo. Era la diosa de la caza y de la naturaleza.

Representación de Artemis de Efeso, ceno griego de la época clásica (Siglo V).



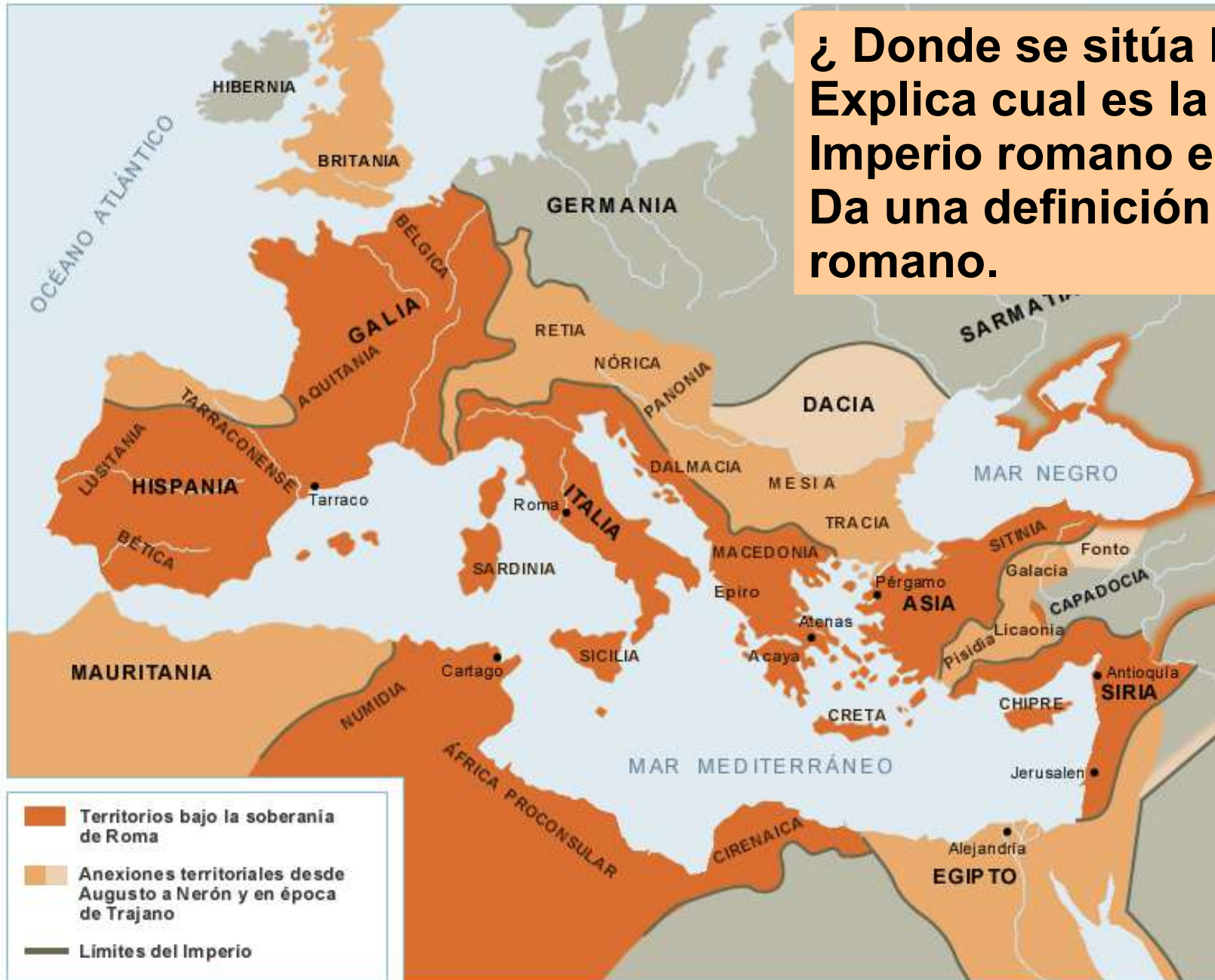
Utilizando el plano siguiente encuentra los tipos de actividades hechas por los Griegos y ordena cada sitio mencionado en su tipo.



I. El espacio mediterráneo en la Antigüedad

2. El Imperio romano

a. Hispania y su conquista



¿ Donde se sitúa Roma ?
Explica cual es la extensión del Imperio romano en el Siglo I.
Da una definición del Imperio romano.

Mapa del Imperio romano siglo I
fuente :
iris.cnice.mec.es,
consultado el
12/06/19

Presenta los dos documentos y completa tu mapa utilizando la leyenda y las ubicaciones dadas.

Hispania, una tierra rica

Según la opinión de algunos, Asturia, Gallaecia y Lusitania suministran¹ por este procedimiento² 20.000 libras de oro al año, pero la producción de Asturia es la más abundante. No hay parte alguna de la tierra donde se dé esta fertilidad durante tantos siglos. En casi todas las provincias se encuentra plata, pero es Hispania la más bella.

Plinio el viejo (23-79), *Historia natural*.

1 : *Suministrar : fournir*

2 : *Los Romanos usaron pozos para explotar las mineras.*

La guerra de Augusto contra Cántabros y Astures

En Occidente, casi toda Hispania estaba pacificada, a excepción de la parte que toca las últimas estribaciones de los Pirineos y que baña el océano Citerior. En esta región vivían pueblos valerosísimos, los Cántabros y los Astures, que no estaban sometidos al Imperio. (...) Teniendo noticias de que su levantamiento iba a mayores, César <Augusto> no envió una expedición, sino que se encargó él mismo de ella. Se presentó en persona en Segisama e instaló allí su campamento.

Floro, Compendio de la *Historia* de Tito Livio (-59 - 17).

Con los textos y la leyenda, completa el mapa



LEYENDA :

✓ Regiones ricas en plata y oro.

✓ Ultimos pueblos en guerra contra Roma (Cántabros y Astures)

➔ Caminos de la conquista romana.

↑ Territorios ocupados por las provincias establecidas por Diocleciano en el siglo III d. C.

I. 2. El Imperio romano

b. El emperador Trajano (53-117 d. C.)



¿ Cuales son los símbolos que podéis encontrar en esta estatua ?
¿ A que parece este emperador ?



Nació en Itálica en 53.

El emperador Trajano (53-117 d. C.), estatua del siglo II d. C., museo del Vaticano

Utilizando la frase subrayada, encuentra las fechas del reino de Trajano.

El emperador Trajano

“Trajano (...) estaba en plena forma en su cuadragésimo segundo año, cuando comenzó a gobernar. Sus facultades mentales estaban en su nivel más alto, de modo que no tenía ni la temeridad de la juventud ni la lentitud de la vejez. (...) No prestaba mucha atención a las calumnias, ni se dejaba llevar por la ira. Se apartó tanto del dinero de los otros como de los asesinatos injustos. Gastó grandes cantidades de dinero tanto en guerras como en favor de la paz.”

Dion Casio (siglo II d. C.), *Historia de Roma* (Libro LXVIII)

Biografía de Trajano :

Nacimiento : 53 d. C. en Itálica, Hispania (actualmente al lado de Sevilla).

Emperador en : 98 d. C. (Los Romanos tenían un calendario diferente del nuestro)

Muerte : 117 d. C.



Completando tu fotocopia, responde a las preguntas siguientes :

- 1. ¿Dónde se sitúa Trajano ?**
- 2. ¿Cuáles son las dos actividades hechas por los soldados romanos ? ¿Por qué quieren hacerlas ?**
- 3. ¿Por qué Trajano ha construido esta columna ?**



La Columna trajana :

localización : Roma, Italia


construcción : 113 d.C.

Altura : 35 m

Arquitecto :
Apolodoro de Damasco

Biografía de Trajano :

Nacimiento : 53 d. C. en Itálica, Hispania (actualmente al lado de Sevilla).
Emperador en : 98 d. C. (Los Romanos tenían un calendario diferente del nuestro)
Muerte : 117 d. C.



Conocido por :

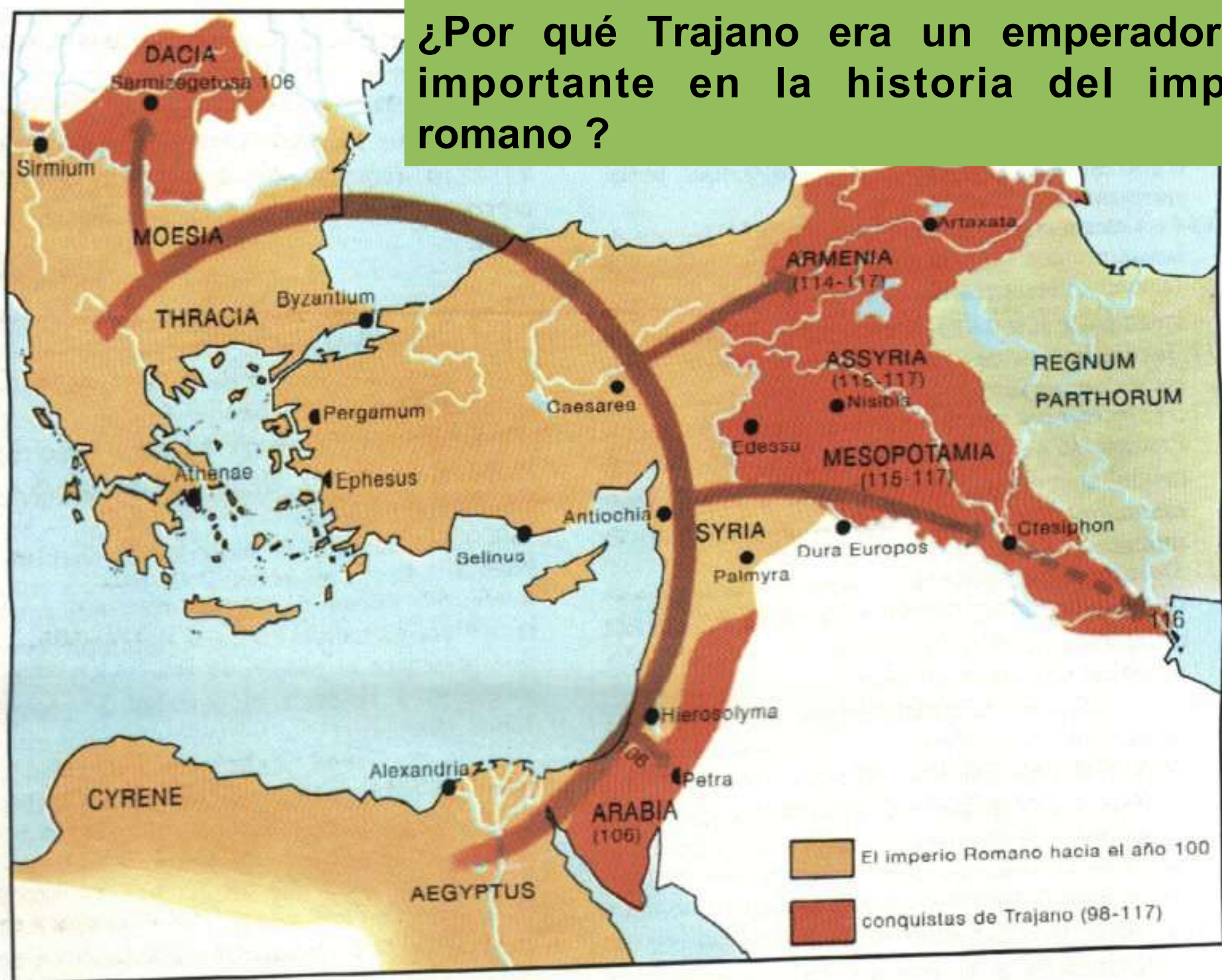
SUS CONQUISTAS MILITARES

- En 101 d. C. Trajan lanzó una expedición punitiva contra el reino de Dacia y triunfó en 102. Finalmente conquistó Dacia en 106.

SUS CONSTRUCCIONES DE EDIFICIOS PUBLICOS

- En 113 d. C. Trajano confió la construcción de la Columna contando sus expediciones militares a Apolodoro de Damasco.

¿Por qué Trajano era un emperador tan importante en la historia del imperio romano ?




Conquistas de Trajano en Oriente

Biografía de Trajano :

Nacimiento : 53 d. C. en Itálica, Hispania (actualmente al lado de Sevilla).

Emperador en : 98 d. C. (Los Romanos tenían un calendario diferente del nuestro)

Muerte : 117 d. C.



Conocido para :

SUS CONQUISTAS MILITARES

- En 101 d. C. Trajan lanzó una expedición punitiva contra el reino de Dacia y triunfó en 102. Finalmente conquistó Dacia en 106.
- Con todos sus triunfos militares al rededor del Mar mediterráneo el imperio romano alcanzó su máxima expansión en toda su historia.

SUS CONSTRUCCIONES DE EDIFICIOS PUBLICOS

- En 113 d. C. Trajano confió la construcción de la Columna contando sus expediciones militares a Apolodoro de Damasco.
- El emperador edificó también un foro y diversos edificios públicos para el pueblo de Roma.